




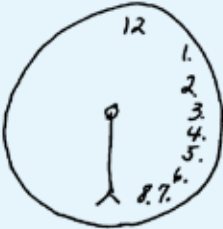

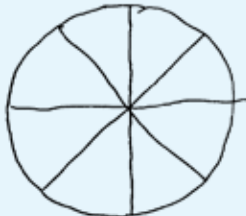
Nom : _____ Prénom : _____ Âge: _____

Date : _____ Évaluateur : _____

Consigne : Dessiner le cadran d'une horloge, placer les chiffres indiquant les heures dans le cadran, puis indiquer **11 heures 10 minutes**.

Score total : _____ /10

Ce test est libre d'utilisation pour un usage clinique.

Exemples d'erreurs du test de l'horloge ⁴	Système de cotation de Rouleau
	<p>Intégrité du contour de l'horloge : 2 points Présence et successions des chiffres : 3 points Présence et positionnement des aiguilles : 4 points</p> <p style="text-align: right;">Score total : 9</p>
	<p>Intégrité du contour de l'horloge : 2 points Présence et successions des chiffres : 3 points Présence et positionnement des aiguilles : 2 points</p> <p style="text-align: right;">Score total : 7</p>
	<p>Intégrité du contour de l'horloge : 2 points Présence et successions des chiffres : 4 points Présence et positionnement des aiguilles : 1 point</p> <p style="text-align: right;">Score total : 7</p>
	<p>Intégrité du contour de l'horloge : 2 points Présence et successions des chiffres : 1 point Présence et positionnement des aiguilles : 1 point</p> <p style="text-align: right;">Score total : 4</p>
	<p>Intégrité du contour de l'horloge : 1 point Présence et successions des chiffres : 1 point Présence et positionnement des aiguilles : 1 point</p> <p style="text-align: right;">Score total : 3</p>
	<p>Intégrité du contour de l'horloge : 2 points Présence et successions des chiffres : 0 point Présence et positionnement des aiguilles : 0 point</p> <p style="text-align: right;">Score total : 2</p>